

écriture

b b b b b b b

B B B B B B B
Bhalil Bhalil Bhalil
Bouali habite à Bhalile

Cahiers de roulement

Les ancêtres des cahiers de texte

ÉCOLE PRIMAIRE AL WAHDA


Numéro 1 - Année 1969-70 - CM1C

Fouad MELLOUK



BHALIL VILLAGE & BHALILA
BIBLIOTHÈQUE NUMÉRIQUE DE BHALIL (BNB)
EDITION - JUIN 2024
BhalilVillage.com





Champion du Monde





Cahier de roulement

4^e classe (CM1C)

Année scolaire : 1969-1970

Nom du maître : Mellouk Kacem

Ecole de garçons de Bahlil



Dadda Fouad

Mercredi 15 octobre 1969

o faute

Diète

Bien

9

michel est un enfant, il est en vacances
il a une petite chambre,
mina a six ans, pendant les vacances elle
ira à la mer

السبت 18 أكتوبر 1969

Saïd chkounda

مسألة



$$\begin{array}{r}
 250 \times 1945 \\
 18 \times 24 \\
 \hline
 4500 \quad 5080 \\
 2480 \\
 \hline
 23880
 \end{array}$$

23880

4500

3480

تمنوا لمرشال مر

$$24 \times 1945$$

$$= 18 \times 250$$

تمنوا للتقريبين معا مر

$$- 4500 + 23880$$

مستحق

7

$$\begin{array}{r}
 23880 \\
 + 4500 \\
 \hline
 3480
 \end{array}$$



1969

الاثنين 20 أكتوبر

Moulay Tahar

مست.

الجزء والعمليات الآتية.

حسن جدا
9
—

$$\begin{array}{r}
 126 \text{ ف} \\
 \times 45 \\
 \hline
 880 \\
 704 \text{ ' } \\
 \hline
 7920 \text{ ف}
 \end{array}$$

$$\begin{array}{r}
 909 \text{ ف} \\
 \times 25 \\
 \hline
 1045 \\
 418 \text{ ' } \\
 \hline
 5225 \text{ ف}
 \end{array}$$

$$\begin{array}{r}
 187 \text{ ف} \\
 \times 34 \\
 \hline
 248 \\
 561 \\
 \hline
 6358 \text{ ف}
 \end{array}$$

écriture

a a a a a a a a a

a a a a a a a a a

Passable

5
—

papa

papa

papa

papa

الثلاثاء 21 أكتوبر 1969 Msili Mostapha

مقاييس



$$p6 + 3 \text{ دسم} = 360 \text{ دسم}$$

$$4 \text{ م} + 7 \text{ دسم} = 470 \text{ دسم}$$

$$5 \text{ دسم} + 9 \text{ م} = 52 \text{ م}$$

$$3 \text{ دسم} + 8 \text{ م} = 308 \text{ م}$$

$$5 \text{ م} + 7 \text{ دسم} = 570 \text{ م}$$

$$7 \text{ م} + 9 \text{ دسم} = 97 \text{ دسم}$$

حسن
8

الأربعاء 22 أكتوبر 1969

Aziz Hammadi

مسألة

العيلات

التينة

الكل

5155	185
x 15	x 27
-----	-----
25775	1155
51550	3700
-----	-----
77325	5155
74925	4995

ثنا منيو وفرا مديتويا على م

$$185 \text{ قلمو}$$

$$= 27 \times 185$$

ثنا 15 مندوقا م

$$= 15 \times 5155$$

ضعيف
ع

5155
4995

77325
74925

Procedural



Médiane
3

1 je m'appelle lauli ggiz \neq
2 je dis en \neq
3 mon cahier est vert \neq

Nazzari

التيسر 23 أكتوبر 1969

حساب

1 5 7
x 5 3

4 7 1
5 8 5

6 3 2 1

لاباس به
6

2 2 7
x 2 4

1 0 0 8
8 9 4

9 9 4 8

1 8 5
x 3 5

9 2 5
7 5 5

8 4 7 5

8 3 2 1

écriture

l l l l l l l l l l

e e e e e e e e e e

Passable
5

xi xi xi xi xi xi xi xi xi



vaici , vaici . vaici . vaici . vaici , vaici

Mounkachi

الأثنين 24 أكتوبر 1969

مسألة

للعمليات	للنتيجة	للحل
$\begin{array}{r} 145 \\ \times 39 \\ \hline 1295 \\ 435 \\ \hline 5645 \end{array}$	$\begin{array}{r} 39 \\ \times 18 \\ \hline 312 \\ 390 \\ \hline 702 \end{array}$	<p>ثمن 39 مسطرة هو</p> $= 18 \times 39$
$\begin{array}{r} 1295 \\ 435 \\ \hline 5645 \\ \hline 2610 \end{array}$	5645	<p>ثمن 145 مسطرة هو</p> $= 39 \times 145$

Grammaire

آ. Bien

6

Louligmer d'un trait tous les noms; le caq chante.
 le chien aboie. la porte et la fenêtre s'ouvrent
 le chasseur a marché dans les champs et dans les
jardins. Il a tué une perdrix et trois lapins



Khadiri Abdallah

الثلاثاء 28 أكتوبر 1969

مقابيل

حول ما يلي الى لسانك!

م 1036 = م 3 كم 1 م 6

م 250 = م 2 كم 5

م 5 28 = م 2 كم 8 م 4

م 3090 = م 9 كم 3

م 2 015 = م 15 م 2

م 408 = م 8 م 4

حسن جدا
9
—

Bouhallous

البرصة 29 Octobre 1969

dictée

Passable
5
—

vont monter
arbre tombé
4 faute

les enfants sont sur la plage. Ils vont
à la pêche. Ils ont un grand bâton
rèmi ^{est} a voulu monter sur un navire.
Ils tombés.

Braouel

الخميس 30 أكتوبر 1969

المسألة

الحل

العمليات

النتائج

$$\begin{array}{r} 24 \\ \times 18 \\ \hline 192 \\ 24 \\ \hline 432 \end{array}$$

$$\begin{array}{r} \times 24 \\ 15 \\ \hline 220 \\ 24 \\ \hline 460 \end{array}$$

$$\begin{array}{r} > 360 \\ \hline 460 \end{array}$$

مجموع البيرة الذي يبعثه هو

$$= 15 \times 24$$

مجموع وزن الصناديق هو

$$= 18 \times 24$$

$$= 432$$

Exercice

- 1 Piemi a trouvé son style dans le tiroire
- 2 dans la cour; il montre son style à ses camarades
- 3 dans la classe écrire est sali sa table

Passable

5

الاثنين 3 نوفمبر 1969

الأعداد العشرية

Laoutaya

حسن جدا
9
—

1 دسر	او	1,0 م	او	$\frac{1}{10}$ م
7 دسر	او	7,0 م	او	$\frac{7}{10}$ م
9 دسر	او	9,0 م	او	$\frac{9}{10}$ م
4 دسر	او	4,0 م	او	$\frac{4}{10}$ م

Écriture

e e e e e e e e e e
 è è è è è è è è è è
 Passable je lève la tête je lève la tête
 5
 —

التلاوة 4 نونى 1969

لاباس به
6
—

مقاييس

4,5 دسر = 45 م	}	1006 م = 1 م 6
$\frac{6,13}{6,13}$ دسر = 613 م		350 م = 3 م 5
$\frac{5,12}{5,12}$ دسر = 512 م		408 م = 8 م 4

Expression écrite

Sa moto de papa

Le père de René a un belle moto. Il très content. La moto va vite. René dit: "je veux monter sur sa moto." papa dit: "tu es très petit qui ripent son papa."

Passable

5



Chafik

Mercrredi 5 Novembre 1969

1 faute

Dictée

Bien
8

laine

il y a un gros ballon. tu as mon style? Meina a une robe de laine. nous avons une jolie maison. vous avez une belle moto; ils ont un bon amarrage de

Hassan Ghazi

1969

الخميس 6 أكتوبر

مساب

اكتب الاعداد العشرية الاتية مستعملا القلم

4, 8

4 وحدات 8 اعشار

6, 3

6 وحدات 3 اعشار

15, 7

15 وحدات 7 اعشار

حسن
9

رتبه الاعداد الآتية تصاعديا

9, 2 - 8, 50 - 4, 125 - 1, 75 - 0, 754

exercice

Complétez les phrases suivantes:

Bien
8

Tu vois ces élèves, ce sont les samaritains de René
Pierre est un mauvais élève, il est souvent
puni

Samedi 8 Novembre 19 69

Abdelatif Diouri

Expression écrite

Miro le chien de René

الاثنين 18 نوفمبر 1969

اكتب بالصور الاعداد العشرية الآتية



Aziz Majid

$\begin{array}{r} 6 \\ \hline 10 \end{array}$	$p 0,6$
$\begin{array}{r} 25 \\ \hline 100 \end{array}$	$p 0,25$
$\begin{array}{r} 785 \\ \hline 1000 \end{array}$	$p 785$

مسألة 9

كتابة

	X	X	X	X	X	X	X
X	x	x	x	x	x	x	x
A. Bien	le taxi	le taxi	le taxi	le taxi	le taxi	le taxi	le taxi
6	le boxeur	tape	fort	le boxeur	tape	fort	le boxeur

1969 نوفمبر 11 الثلاثاء

Aziz Abdallah

مسألة

العمليات

النتائج

الحل

230
56

286

م 56

م 230

م 286

= 5 دكم م 6

= 2 هم 3 م

ضوء العنبيز معاهو:

= م 230 + م 56

حسن جدا
9

Mercredi 12 Novembre 1969

Tellous Az-AL-Arabe

Exercice

Les feuilles jaunissent.

Bien

C'est l'automne,

dehors

7

Maman, est ce que je peux aller dahort s'il te plait?

Il fait froid couvre .toi Mets ton tricot de laine

Ali Youssef

الفيس 13 نونبر 1969

مسألة

اكتب بالاعداد العشرية المسور الكنية



حذف جدا
9

$$\begin{array}{r} 1 \\ 10 \\ \hline 0,1 \\ 8 \\ 100 \\ \hline 0,08 \\ 5 \\ 1000 \\ \hline 0,005 \end{array}$$

$$\begin{array}{r} 6 \\ 10 \\ \hline 0,6 \\ 76 \\ 100 \\ \hline 0,76 \\ 256 \\ 1000 \\ \hline 0,256 \end{array}$$

Samedi 15 Novembre 1969

Karrab

Expression écrite

Michel est malade

Layachi Mohamed

لاثنين 17 نونبر 1969

حساب

لتجزؤ والصليات الآتية:

$$42,3 = 16,5 + 25,8$$

$$22,70 = 2,45 + 14,25$$

$$284,35 = 264 + 17,35$$

$$192,50 = 69 + 123,50$$



حسن
8

+ \$ 17,35
\$ 267)
\$ 284,35

+ \$ 258
\$ 16,5
\$ 42,3

+ \$ 123,50
\$ 69,
\$ 192,50

+ \$ 14,25
\$ 8,45
\$ 22,70

Le bitume

A. Bien

p p . p . p . p . p . p . p . p . p

6

p p . p . p . p . p . p . p . p . p

maman a prepare le repas des petits

Messaoud
Mohamed

mercredi 19 novembre 1969

1 faute

Ditee

tous

René est tout petit. ^{est} Nina toute petite
je me leve tous les jours de bonne
heure. Nous ~~entrons~~ tous à l'école à

Bien

8

huit heures

الخميس 20 نونبر 1969

ص.ب



Beztami Thami

انجزوا العمليات التالية

حسن جدا
9

$$\begin{array}{r} 247 \\ + 39,50 \\ \hline 286,50 \end{array}$$

$$\begin{array}{r} 85,74 \\ - 52 \\ \hline 33,74 \end{array}$$

$$\begin{array}{r} 145,25 \\ + 38,15 \\ \hline 183,40 \end{array}$$

écriture

b b b b b b b b b
 b b b b b b b b b
 bébé a bu, il rit. bébé a bu, il rit.

A. Bien
6

الاثنين 24 نوفمبر 1969

Dada Fouad

مصادف

حسن
8

الصلوات	
+ 135	250
65	200
<hr/>	<hr/>
200	450

المنفعة
200
<hr/>
450

الجملة
 ثمن التغليف هي :
 135 + 65
 ثمن الكلفة هو :
 250 + 200



الاربعاء ٢٤ نوفمبر ١٩٦٩

Afkir Mohamed

مسألة

العقبات

$$\begin{array}{r} 2,25 \\ + 1,40 \\ \hline 3,65 \end{array} \quad \begin{array}{r} 3,50 \\ + 3,65 \\ \hline 7,15 \end{array}$$

$$\begin{array}{r} 28,75 \\ + 7,15 \\ \hline 35,90 \end{array}$$

مؤوس
5
—

النتائج

$$\begin{array}{r} 33,65 \\ + 5,90 \\ \hline 39,55 \\ + 34,65 \\ \hline 74,20 \end{array}$$

المد

تم المزام هـ:

$$= 1,40 + 28,25$$

التكاليف هي

$$= 3,65 + 28,50$$

كلنا هذا التنتان

$$= 7,15 + 28,75$$

Dictée

4 fautes

je joue dans la cour avec René



toujours

Tu chantes tout jour.
les enfants marchent sur un
tapis rouge. & tous marchent
trop vite pour moi. Nous
cherchons champignons cherchents des champignon.

A. Bien

6

marchez

cherchons champignons

cherchents des champignon.

Aziz Abdallah

1963

نوسبر

27

الخميس

مسألة

العمليات

النتائج

المحل

$$\begin{array}{r} 5380 \\ 205,75 \\ \hline 5585,75 \end{array} \quad \begin{array}{r} 120 \\ 85,75 \\ \hline 205,75 \end{array}$$

> 205,75

التكاليف هي:

$$= > 85,75 + > 120$$

نتم كلفة هذه الدار:

> 5585,75

= > 205,75 + > 5380

exercice

حسني جدا

9

je complète les phrases suivantes :

Bien

8

Bébé mange sa soupe. Il tient mal sa cuillère.
Il la tient à l'envers. que va-t-il arriver? Il a vu
de la soupe partout. Bébé est malade. sa
maman va l'aider à manger sa soupe

Lundi 1^{er} Décembre 1969

Aziz Kabli

Écriture

j j j j j j j j j j

j j j j j j j j j j

je je je je je je je je je je

Passable

5

une jolie jupe une jolie jupe une jolie jupe

Grammaire



Noms féminins

la mère
une pomme
la règle
la voiture
une chatte

Noms masculins

le père
un chapeau
le chasseur
un livre
un chat

A. Bien

6

Fouad Gattabi Mardi 2 Décembre 1969

مسألة

العمليات

- 250 - 250
 150 100
 100 150

منوس

5

التسليم

100
150

الحل

استخرج من البرميل من الزيت مؤ

250 - 100

دبقي مؤ

150
100

250 - 150

MsiBi

Mercredi 3 Décembre 1969

ofaute

Dictée



E. Bien

10

Moi, j'ai une jolie robe.

René a une petite voiture.

Donne ta voiture à René.

Donne-moi ta voiture.

J'ai froid, j'ai la figure toute froide.

jeudi 4 Décembre 1969

Hassan Ghazi

écriture

g g g g g g g

g g g g g g g g

Passable

5

le garage de papa est grand. le garage de papa

Exercice

je complète les phrases suivantes
M^{me} Dubois a fini le ménage Elle va faire son
marché. Elle achète des fruits des gâteaux et de la



Bien
7

viande. Combien coûte la viande d'agneau ?
M^{me} Dubois se préche de rentrer a la maison
Elle va préparer le repas de midi

Lamedi 6 Decembre 1969

Khalifa Abdenni

أحمد

المسألة

النتيجة

الكل

120
9
-

$$\begin{array}{r} 192 \\ \times 5 \\ \hline 960 \end{array}$$

$$\begin{array}{r} \times 48 \\ 4 \\ \hline 192 \end{array}$$

$$192$$

$$960$$

سبعة اربعون
= 4 x 48

سبعة اربعون
= 5 x 192

Expression écrite



Tierre se lave

billes

A. Bien

6

prend
savon

dit mains
maintenant
montre

Tierre a joué aux billes ses mains
sont sales. Il prais de l'eau, du
savont et du seau. Il frotte fort.
maman lui di: "montre moi tes mains".
Ah! tu as les mains propres montre
C'est bien.

Lundi

8

Décembre

1969

Messaoudi

écriture

y y y y y y y y y y y y

y y y y y y y y y y y

Passable

5

le maman a balayé la maison

Mardi

9

Décembre

1969



Khabija Thami

مسألة

العمليات

$$\begin{array}{r}
 200 \text{ } 207 \text{ } 125 \\
 - 134 \text{ } 109 \\
 \hline
 1073 \text{ } 1134
 \end{array}$$

النتائج

المد

استخرج من البريد

1134

$$= 109 + 125$$

بقية في

173

$$= 134 - 207$$

مدى
8

Braoul

Mercredi 10 Décembre 1963

~~ru~~
~~braoul~~

Exercice

je mets le mot qui manque

Bien
7

M^{me} Dubois va repasser le linge avec un fer à repasser
 Le linge est repassé, M^{me} Dubois le range dans l'armoire
 Et maintenant elle va faire de la couture
 Elle va coudre la veste de René avec du fil et une aiguille



Laoutay Moh'd Lundi 15 Decembre 1969

مسألة

حسن جدا
g

العمليات	النتائج	الحل
- 650		
150		أجرة الإيجار في اليوم هي
<hr/>		
500		
+ 650	500	$500 = 150 - 650$
+ 500		اجرتها مع في اليوم هي
<hr/>		
1150	1150	$1150 = 500 + 650$

Beztami Thami Mercredi 17 Decembre 1969

مسألة

حسن جدا
g

العمليات	النتائج	الحل
+ 210		نفقاته الشهرية هي :
+ 45		
+ 18		
<hr/>		
273	273	$273 = 210 + 45 + 18$



390
 273

 117

د 117

سوقه في ذللا الشمر
 = د 273 - د 390

1 faute

Dictée

Bien
 9
 -

Pauvre

Pené a chaud. Il a bu
 beaucoup d'eau. Il a bu
 trop d'eau. Il est malade.
 Il est au lit. Poure Pené!

Lamedi 20 Décembre 1961

Laoutaya Mohamed

مسألة

البياتين
 175
 - 48

 128

التسايب
 م 128

الدا
 عرضه هو:
 = 48 - 175

صبيته هو:
 = 2 x (ع + ط)



$$\begin{array}{r} \times 304 \\ \quad 2 \\ \hline 608 \end{array} \quad \begin{array}{r} \times 608 \\ \quad 2 \\ \hline 1216 \end{array}$$

لا بأس به
6

$$\begin{array}{r} \times 1216 \\ \quad 2 \\ \hline 2432 \end{array}$$

النتائج
C
م 608

$$= 2 \times 304$$

أراد أن يبيظه يفتن من الأسلاك
الديديه

م 1216

$$2 \times 608$$

مميوم طور ذلك الأسلاك هو

م 2432

$$= 2 \times 1216$$

Afkir Mohamed

Expression écrite

René se réveille

La maman de René regarde la réveil. Il est huit heures. et René dort encore. - réveille-toi René, c'est l'heure" lui dit sa maman
René se lève et dit: "Bonjour maman". Puis il se lève va dans la salle de bain

Ab. Bien

6



Ahmed Youssef Mercredi 24 Décembre 1969

3 fautes

beau

Dictée

Un beau bateau sur l'eau. Deux beaux
bateaux sur l'eau. Trois oiseaux sur
le mur et une belle plume sur
mon chapeau.

Bien

7

Avec son couteau, René a coupé un
gros morceau gros morceau de pain.

jeudi 25 Décembre 1969

Karrab Mohamed

Écriture

h h h h h h h h h

ch ch ch ch ch ch ch ch ch



le bûcheron coupe le bois avec une hache.

Exercice

je complète les phrases suivantes:

René et Catherine viennent voir si le Père Noël leur a apporté des jouets.

Bien
8

- Oh! regarde il y a des paquets à côté de nos chaussures.

- Il y a sans doute des jouets dans les paquets.

- j'ouvre mon paquet. Couvre le tien.

Lundi 5 janvier 1970

Aziz Majid

Écriture

J j j j j j j j j

Tr. Bien
6

Ismaïl Ismaïl Ismaïl Ismaïl

Mouby Ismaïl était un grand roi du Maroc



Mardi 6 janvier 1969

Abdellatif Diouri

مسألة

حسين
8
—

العمليات

$$\begin{array}{r} 1000 \\ + 500 \\ + 80 \\ \hline 1580 \end{array}$$

النتائج

1580

الحل

وزن القطعة هو

$$= 1000 + 500 + 80$$

Mercredi 7 janvier 1970

Fellous Az-EL-Arabe

مسألة

127 حسن
9
—

$$\begin{array}{r} 286 \\ \times 45 \\ \hline 1430 \\ 11440 \\ \hline 12870 \end{array}$$

$$\begin{array}{r} 167 \\ \times 37 \\ \hline 1169 \\ 5010 \\ \hline 6179 \end{array}$$

$$\begin{array}{r} 145 \\ \times 28 \\ \hline 1160 \\ 2900 \\ \hline 4060 \end{array}$$

1 faute

Dictée

fini

Il est neuf heures du soir, le
diner est fini. Bon soir papa,
Bonsoir maman!



Bien
8

René va se coucher.
Son tablier noir est dans le lit
noir,

jeudi 8 janvier 1970

Aziz Abdallah

حساب

العيليك

التدريج

الحل

تفن 17 كج هو:

230 230
17x 251

3910

= 17 x 230

1610 230
230 1150
 460

تفن 251 كج هو:

3910 + 57730

57730

= 251 x 230

écriture

h h h h h h



H

K

K

K

K

K

K

A. Bien

6

Hacem

Hacem

Hacem

Hacem

Lamedi 10 janvier 1970.

Expression écrite
le mouchoir de René

Chafik

lundi 12 janvier 1970

انبيز والعمليات الآتية

308

520

175

248

930

107

2464

15600

1225

1232

1750

616

18725

76384

ح

8



Grammaire

je souligne les articles et je mets une croix sous le verbe.

les flocons de neige tombent sur le bord de la fenêtre.

Ils volent comme des papillons. Voici une pomme, des légumes et le panier. le lapin mange une carotte.

Bien
7
—

Mardi 13 janvier 1970

Abderrahman Benaïssa

مدألة

العمليات	النتائج	العدد
£ 000		
+ 500		وزن اللفة البريدية
+ 5		
+ 2		
<hr/>		
£ 507	£ 507	£ 000 + £ 500 + £ 5 + £ 2

لاباس به
6
—

Mercredi 14 janvier 1970



Chkounda

Dietée

mal écrit
2

3 foutes
matin
me lève
bonne
jardin
je vais et
voir blé
tous poussins

le matan, je mdere de bonne.
je vais au jardin je ve voir mon
lapin, est je donne du blé
à tout mes poussins



jeudi 15 janvier 1970

حساب

لنجزو العمليات الآتية

مسألة
7

915,72
x 6,81

1572
12576
9502

107,8532

37,85
x 14

3140
785

109,90

21088
x 3,5

1040
624

728,0



Layachi

écriture

a a a a a a a a

A A A A A A A A

A. Bin

6

Ahmed Ahmed Ahmed

Abi est le camarade de Ahmed

Lamedi 17 janvier 1970

Mounkachi Abderrahman

مسألة

العملية

- 21 16

61 + 45

30 61

النتائج

61

3

المطلوب

الفلجيين

طول الفلج الثالث هو

= 45 + 16

طول الفلج الثالث هو

= 61 - 31

Expression écrite
une soirée en famille

Bouhalous

Mercredi 21 janvier 1970

6 fautes

Dictée

Passable

5

moment, il
bon.
Maintenant.
il pain

Ablain est venu à la mer par le train.
On ce maman, Il est dans l'eau. Oh!
le bon bain.
Il sort de l'eau. Maintenant Il a
faim. Il mange du bain et des
chocolat.

jeudi 22 janvier 1970

5 fautes



Mohd ben Abbas

العنوان

التسمية

الرقم

$$\begin{array}{r} 2,500 \\ \times 35 \\ \hline 7500 \\ 12500 \\ \hline 0,87500 \end{array}$$

تتميز المشاخص هو:

$$\Rightarrow 0,35 \times 2,500$$

$$\begin{array}{r} 4,750 \\ \times 65 \\ \hline 23750 \\ 105000 \\ \hline 1,43750 \end{array}$$

تتميز القبز هو:

$$= 0,65 \times 4,750$$

الإجمالي

7

$$\begin{array}{r} 0,87500 \\ + 1,43750 \\ \hline 2,31250 \end{array}$$

مجموع ما انفقته امير في السنة

$$2,31250$$

$$= 1,43750 + 0,87500$$

Exercice

Je complète les phrases suivantes:

أ. Bien

6

Regarde l'oiseau dans sa cage Il ne peut pas voler. La cage est trop petite Il est malheureux. Il faut le changer de cage Il faut le mettre dans une grande cage.



Nazari Moh'd

Lundi 26 janvier 1970

(4)

1,050

x 3,05

5 2 5

5 1 5

5 6 7 5

1,70 25

12 4 5

x 4, 7 5

12 2 5

9 8 0

1 4 0 2 5

1 1 6 3, 7 5

2 4, 1 8

x 5, 0 9

3 7 6 2

2 0 3 0

2 4 2 6 2

1 1 9 7 6 2

Aziz Moumou

Mercredi 28 janvier 1970

5 fautes

Dictée

livres

Combien de ~~deux~~ livre avois-tu dans ton sac?

Passable

livres

- Deux livre: le mien et le tien
je n'ai rien dans les main.
Ils ^{seul} resté au lit. j'étais
malade. je n'ai rien mangé

main

je suis au lit

jeudi 29 janvier 19 20

مسألة

العمليات	النتيجة	الحل
$\begin{array}{r} 2,5 \\ \times 0,65 \\ \hline 150 \\ 125 \\ \hline 1,625 \end{array}$	$\begin{array}{r} 3,5 \\ \times 0,45 \\ \hline 175 \\ 140 \\ \hline 1,575 \end{array}$	ثمن البطاطس هو: $= 0,45 \times 3,5$
$\begin{array}{r} 1,575 \\ + 1,625 \\ \hline 3,200 \end{array}$	$\begin{array}{r} 1,575 \\ 1,625 \\ \hline 3,200 \end{array}$	ثمن الخبز هو: $= 0,65 \times 2,5$
عدد 8 —	$\begin{array}{r} 1,575 \\ + 1,625 \\ \hline 3,200 \end{array}$	مجموع ما أنفقته أمي في السوق هو: $= 1,625 + 1,575$

exercice

je complète :

A. Bien

6

quand le chien voit un chat, il
aboye. Il se jette sur le chat. Il



essaie de le mordre. Il l'attaque.
Le chat ne se laisse pas faire
Il sort ses griffes. Il se défend.

Lundi 2 février 1970

Kendoussi Mohd

مسألة

العمليات

$$\begin{array}{r} 480 \\ \times 0,60 \\ \hline 2880 \\ 2880 \\ \hline 288,0 \end{array}$$

$$\begin{array}{r} 72 \\ 32 \\ \hline 18 \\ 0 \end{array}$$

النتائج

$$288,0$$

$$572,0$$

$$18,0$$

الجدول

مجموع المسافة التي قطعها

$$= 50,60 \times 480$$

ميدان القرد هو :

$$= 4 \div 288,0$$

فئة هو :

$$= 4 \div 72,0$$

من
8
—



Heritance

↑ ↑ ↑ ↑ ↑ ↑ ↑ ↑

♂ ♂ ♂ ♂ ♂ ♂ ♂ ♂

Ab. Blew

6
—

Tierre Tierre Tierre Tierre

Tierre et Paul Ba habitent à Paris. Tier

Mercredi 4 Janvier 1970

Nazari Mohamed

٤٠٠

البر والصلوات اللطيفة

حسنا
8
—

$$\begin{array}{r|l}
 685 & 5 \\
 18 & 137 \\
 \hline
 3425 & 0
 \end{array}$$

$$\begin{array}{r|l}
 3452 & 4 \\
 25 & 137 \\
 \hline
 12 & 0
 \end{array}$$

$$\begin{array}{r|l}
 2652 & 3 \\
 25 & 88 \frac{1}{2} \\
 \hline
 12 & 0
 \end{array}$$

Dites



habite

Passable

5

1 faute

• René habite loin de l'école.
 Le matin, il va à l'école sur un
 vélo tout neuf.
 - Vo moins vite, René!
 Boum! René est tombé.
 René a eu peur. Maintenant il
 va ^{voulez} moins vite

Dada Fouad

jeudi

5

février

1970

الحساب

التجزئة والعمليات الآتية

$$\begin{array}{r|l} 468 & 78 \\ 00 & \\ \hline & 6 \end{array}$$

$$\begin{array}{r|l} 385 & 62 \\ 23 & \\ \hline & 6 \end{array}$$

$$\begin{array}{r|l} 621 & 75 \\ 211 & \\ \hline & 8 \end{array}$$

$$P = 75 : 621$$

$$P = 62 : 385$$

$$P = 78 : 468$$

لا بأس

6

Exercice



1 je vois au zoo des animaux: des lions et des
éléphants

Tassalle

5

2 parce qu'il a méchante

3 je peux nommer d'autres animaux moins
méchants comme des singes des girafes et
le chien

Lamedi 7 Février 1970

Lamsili Mastafa

مسألة

للعملية

$$\begin{array}{r} \times 27 \\ \times 27 \\ \hline 189 \\ 54 \\ \hline 729 \end{array} \quad \begin{array}{r} \times 7,29 \\ \times 9,50 \\ \hline 3645 \\ 2187 \\ \hline 2551,5 \end{array}$$

للنتائج

2729

> 2551,5

الكل

مساحته هي

$$= 27 \times 27.$$

ثمنا اذا كان المترهوا:

$$3,50 \times 729$$

حسن

8



Lundi 9 Février 1970

Fouad Gattabi

écriture

b b b b b b b b b

B B B B B B B B B

Tassable Bhalil Bhalil Bhalil Bhalil

5 Bouali habite à Bhalil bouali habite

Mardi 10 Février 1970

Aziz Hamadi

مقايس

$$764 \text{ دسم}^2 = 64 \text{ دسم}^2 + 7$$

$$1584 \text{ دسم}^2 = 84 \text{ دسم}^2 + 15$$

$$3125 \text{ دسم}^2 = 75 \text{ دسم}^2 - 32$$

Mercredi 11 Février 1970

معا



Kabli Aziz

أهم العمليات الآتية بحسب محتوى الخارج على رضىنا بعد الفعالة :

$$\begin{array}{r} 548 \overline{) 35} \\ 231 \\ \hline 120 \\ 000 \end{array}$$

$$\begin{array}{r} 548 \overline{) 33} \\ 318 \\ \hline 20 \\ 00 \end{array}$$

$$\begin{array}{r} 48 \overline{) 9} \\ 30 \\ \hline 30 \\ 00 \end{array}$$

0 faute

Bien
8

Dictée

Mina ne sait pas s'habiller toute sa famille est de René est assise au bord de l'eau René cherche des guillemets. Mina, la petite fille court après les papillons.

jeudi 12 Février 1970

Hassan Ghazi

Exercice

je réponds aux questions

René et son père sont ²⁴ auto

Ils roulent à la vitesse de 100 km à l'heure ils arrivent dans un village

Passable
5



Khalifa

~~Partif~~

Lamechi

14

Fevrier 1970



مسألة

المطلوب	النتائج	الحل
$\begin{array}{r} \text{p} 25 \\ \times \text{p} 15 \\ \hline 125 \\ 25 \\ \hline \text{p} 375 \end{array}$	$\begin{array}{r} \text{p} 375 \\ \text{p} 375 \\ \hline 24375 \end{array}$	<p>المطلوب</p> <p>= $\text{p} 15 \times \text{p} 25$</p> <p>المطلوب</p> <p>= $6,5 \times \text{p} 375$</p>
$\begin{array}{r} 375 \\ \times 6,5 \\ \hline 1875 \\ 2250 \\ \hline 24375 \end{array}$		

مسألة
8

l'expression écrite

à la ferme



A. Bien
6

C'est dimanche, Rémi n'a pas en classe. Il est venu jouer avec René. Rémi est content, il va montrer à son camarade tous les animaux de la ferme. Il y a des oies, des chèvres, des brebis, des vaches, des moutons. Rémi veut caresser une chèvre. Mais la chèvre lui donne un coup de cornes.

jeudi 13 février 1970

Messaoudi

écriture

d d d d d d d d

D D D D D D D D D

A. Bien
6

Didier Didier Didier Didier Didier

Kada est le camarade de Didier



Braoul

Lamedi 21 Février 1970

مسألة

العمليات

$$\begin{array}{r}
 \times 35 \\
 18,8 \\
 \hline
 70 \\
 70 \\
 \hline
 350 \\
 \hline
 6487,0
 \end{array}$$

النتائج

994,4

الحل

صيغة هو:

$$= 18,8 + 35 + 18,8 + 35$$

مسألة هي:

$$= 12,8 \times 35$$

ثمن هو

$$2,25 \times 487,0$$

7

7

$$\begin{array}{r}
 \times 487,0 \\
 2,25 \\
 \hline
 91350 \\
 85400 \\
 \hline
 960,750
 \end{array}$$

9427,0

960,750

Khabiya Thami

Parli 23 Février 1970

Grammaire

je souligne d'un trait les adverbes:



Ab. Bien

6

Nous marchons, doucement. Tu viens ici, je me lève tôt, je, du ante
rien, tu va vite. Vous, écrivez mal, le, chien, abroie fortement

Mercredi 25 Fevrier 1970

Messaoudi

حساب

انجزوا كل عمليه بدون باقي

لاباس به

6

$$\begin{array}{r|l}
 12084 & 48 \\
 248 & 2041,3 \\
 564 & 251,75 \\
 160 & \\
 16 &
 \end{array}$$

$$\begin{array}{r|l}
 3728 & 32 \\
 0128 & 304 \\
 00 &
 \end{array}$$

$$\begin{array}{r|l}
 7645 & 25 \\
 0445 & 305,8 \\
 200 & \\
 00 &
 \end{array}$$

Dictée

o faute

je vais chez mon camarade.
 je n'ai pas assez d'encre.
 Remis a de l'encre sur le bout
 du nez.
 Avez-vous vos livres?
 Vous parlez trop fort. Parlez
 moins fort. Soyez sages.

E. Bien

8

Afkir Mohd

jeudi 26 Fevrier 1970

Exercice

Je complète les phrases suivants:

Bien

8

Catherine va prendre l'autobus L'arrêt de l'autobus est ici, au potéau qui est en face du garage. L'agent de police dit à Catherine: « tu n'as pas le droit de traverser la rue m'importe où te ^{ou} il faut prendre le passage pour les piétons. »

Le mardi 28 Fevrier 1970

حساب

اتمام البزاره الآتي

متوسط

5

54 سم	2,75	4,50 م	60 سم	الطول
15 سم	1,30	3 م	20 سم	العرض
10 سم	3,575	13,5 م	1200 سم	المساحة
138 سم	810	8,475 م	60 سم	المحيط

Aziz Haddou

Mercredi 4 Mars 1970

4 fautes

Dictée

menuisier

Que fais-tu petit menuisier?

je fais des réparations

je répare mon camion et mon avion

je s'est travailler et je fais attention

Bien

avion

sais attention

8

Jeudi 7 Mars 1970

Ahmed Yousof

هندسة

الدائرة

هندسة

7



الدائرة مركزها القطر وقطر

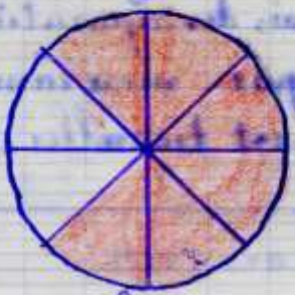
Kharrab Mohamed

Mardi 10 Mars 1970


حساب الكسور

ظل كل شكل من الاشكال الاتية $\frac{3}{4}$


حسب 8



$$\frac{3}{4}$$



$$\frac{3}{4}$$



$$\frac{3}{4}$$

Diouri Abdellatif

Mercredi 11 Mars 1970.

Conjugaison.

Le verbe: prendre

Preésent

je prends mon livre
tu prends ton livre
il prend son livre
Nous prenons notre livre
Vous prenez votre livre
Ils prennent leur livre

Passé composé

j' ai pris mon cahier
tu as pris ton cahier
il a pris son cahier
nous avons pris notre cahier
vous avez pris votre cahier
Ils ont pris leur cahier

Bien
8

Dictée

jeudi 12 Mars 1970

Exercice

je complète les phrases suivantes:

Les chaussures de René sont trouvées. Les semelles
sont usées. René, porte tes chaussures chez le
cordonnier. Dis-lui de les réparer le plus vite
possible. Il ne peut pas les réparer. tout de suite
ce n'est pas possible

Bien
8



Lamedi 14 Mars 1970

مسألة

عزيز عبد الله

العمليات

التسليم

المد

$$\begin{array}{r} 150 \overline{) 2} \\ 10 \overline{) 75} \\ 0 \end{array}$$

قلعه هو:

$$m 30 = 45 - m 75 = 2 \cdot 150$$

حسن جدا
9

$$\begin{array}{r} 25 \\ 45 \\ \hline 30 \\ 1350 \\ 2,5 \\ \hline 6750 \\ 2700 \\ \hline 3375,0 \end{array} \quad \begin{array}{r} 30 \\ \times 45 \\ \hline 150 \\ 120 \\ \hline 1350 \end{array}$$

مسافته هي:

$$= 45 \times 30$$

m 1350

نصفه هو:

$$= 2,5 \times 1350$$

> 3375,0

Lundi 15 Mars 1970

écriture

u u u u u u u u u u u

u u u u u u u u u u u



Ulysses . Ulysses . Ulysses . Ulysses Uly
 Ulysses est un nom de personne . Ulysses est un nom

Mardi 17 Mars 1970

مقياس القياس

2 م	2 م	2 م
مكار	آر	ستار
0 0	0 0	0 0
5	00	
*	2	0 0
1	*	0 0
1	00	

200 = مكار, 2

500 = آر, 2

100 = ستار, 1

200 = مكار, 2



Mercredi 13 Mars 1970

الكسور

وحد الكسور التالية :

لاباس به
6

$$\frac{16}{12} = \frac{3 \times 4}{3 \times 5}$$

$$\frac{15}{20} = \frac{5 \times 3}{5 \times 4}$$

$$\frac{4}{5} \text{ و } \frac{3}{4}$$

$$\frac{10}{20}$$

$$\frac{20}{16} = \frac{4 \times 5}{4 \times 4}$$

$$\frac{16}{20} = \frac{4 \times 4}{4 \times 5}$$

$$\frac{5}{4} \text{ و } \frac{4}{5}$$

1 fonte

Dictée

Mon père, Mon père avait un beau
Métier. Il était Mécanicien. Il
 travaillait dans un petit atelier.
 Le jeudi, Il coupait pour nous
 des petits Morceaux de bois.
 Comme nous étions satisfait,
 contents.

Passable
5

morceaux

jeudi 14 Mars 1970



Exercice

je complète les phrases suivantes:

Une lettre met au moins deux jours pour arriver
Il faut prévenir l'oncle Jean le plus vite possible
M^{me} Dubois veut telephoner au 0.0123
Mais le 0.0123 ne répond pas puisque l'oncle Jean
ne répond pas nous allons lui envoyer un
telegramme

Lamedi 21 Mars 1920

Lamghari Tahar

مسألة

العمليات

$$\begin{array}{r} 26 \\ \times 26 \\ \hline 156 \\ 520 \\ \hline 676 \end{array}$$

النتائج

$$\begin{array}{l} 2676 \\ 3042,0 \end{array}$$

الحل

مسألة ضرب:

$$= 26 \times 26$$

تسوية المسألة هو:

ميو سة
5
—

$$\begin{array}{r} 6,76 \\ \times 4,5 \\ \hline 3380 \\ 27040 \\ \hline 3042,0 \end{array}$$

$$\begin{array}{r} 3042,0 \\ \times 0,75 \\ \hline 152100 \\ 912940 \\ \hline 2281,500 \end{array}$$

78,00

$$= 34,5 \times 676$$

ثمن الترمينه هو:
ثمن السباج هو:
 $= 0,25 \times 3042,0$

9

Expression écrite


René a pris froid

René ^{est} René dans le cour de l'école. Il pleut, Il fait froid. Il court partout, René dit: "y'ai choud yenlève mon tricot." Rémi dit Menlève pas ton tricot tu vas prendre froid

Médiocre

4

Trémi lui dit: "attantion
tu vas konbré malade
Tréné va a la maison
la maman de Tréné
vas acheter des maidicaman



Moumou Aziz

Mercredi

1^{er}

Avril 1970

les fautes

Dictée

réville sonné
sohil travail

le reville a soné. le sohil brille
Debout! Au travail! René
travaille moins vite que sa
cousine Mireille.
Dans les champs les abeilles

Passable

5



1 travaillent aussi.

jeudi 2 Avril 1970

Beriane Mohamed

مسألة

العملية

النتائج

الول

$$\begin{array}{r} 850 \overline{) 7} \\ 15 \overline{) 70} \end{array} \quad \begin{array}{r} 121,42 \end{array}$$

121,42

30
20
6

360

140

$$\begin{array}{r} 850 \overline{) 5} \times 170 \\ 35 \overline{) 170} \\ 00 \end{array} \quad \begin{array}{r} 121,42 \\ 170 \\ 19 \\ \hline 58204 \end{array}$$

اعطى لولده الكبير ~~100~~ :

$$= 7 = 850$$

اعطى لولده الصغير ~~100~~ :

$$= 5 = 850$$

مقدار ما اعطاه للولدين هو

$$= 140 + 121,42$$

لابانس به

6

lundi 6 Avril 1970

مسألة

العمليات

$$\begin{array}{r} 80 \\ - 40 \\ \hline 40 \end{array}$$

حسن جدا
9
—

النتائج

$$\frac{2}{5} = 40$$

$$\frac{2}{5}$$

بقصدها:

$$= \frac{2}{5} - \frac{4}{5}$$

$$= 40 - 80$$

Bouhalous

Mercredi 8 Avril 1970

مسألة

العمليات

$$\begin{array}{r} 1560 \\ - 1248 \\ \hline 0312 \end{array}$$

حسن
8
—

$$\begin{array}{r} 312 \\ \times 4 \\ \hline 1248 \end{array}$$

النتائج

$$1248$$

$$312$$

$$312$$

الحل

انفقت في السرف:

$$= 1560 - 5$$

بقي لها هو:

$$= 1248 - 1560$$



Dictée

la viande

On achète la viande chez le boucher.
et le pain chez le boulanger.
Va fermer la porte.
Après le dîner je vais me coucher.
je ne sais pas jouer au billé.

Bien
8

aux billes

Mounkachi

jeudi 3 Avril 1 970

Exercice

je réponds aux questions suivantes:

Bien
7

- 1 Le plâtrier met du plâtre dans une boîte ensuite il a joute un peu d'eau
- 2 Il se dépêche parce que le plâtre durcit très vite en séchant

حوالہ دیا گیا:

$$\sqrt{327} = 18,11$$

$$\sqrt{300} = 17,32$$

عمومی جواب

$$\sqrt{247} = 15,72$$

$$\sqrt{1600} = 40$$

9

$$\sqrt{86} = 9,27$$

$$\sqrt{400} = 20$$

Mercredi 15 Avril 1970

Chkounda

2 fautes

Dictée

allume

En hiver maman allume
du feu dans la cheminée ai
soif. Donne moi un peu d'eau
Mina a deux jolis yeux dans
ses cheveux. Vetu au vire
la porte je veux bien mais
je ne peux pas

Bien

7

Veux

jeudi 16 Avril 1970



Abderrahman Benaissa

مسألة

العمليات

$$\begin{array}{r} 480 \overline{) 9} \\ \underline{30} \\ 30 \\ \underline{30} \\ 0 \end{array}$$

$$160 \times \frac{3}{9} = 53,3$$

النتائج

> 160
<u>320</u>
> 80
<u>480</u>

الحل

ثلث هذا القدر هو

$$= 3 \div 480$$

ثمن مؤونة عائلته: هي

$$= 3 \times 160$$

قيمة التراء هي

$$= 6 \div 480$$

مجموع ثمنتيه هي

$$= 80 + 320$$

مؤونة
5

exercice



1 le charbonnier fait du charbon de bois

to. Bien

6

2 Il est tout noir parce que le charbon le salit

3 non, ce n'est pas bien ^{ce} que René a dit au charbonnier,
Il ne faut pas se moquer d'un travailleur

Lamedi 18 Avril 1970

Layachi Moh d

مسألة

العمليات	النتائج	الحل
$\begin{array}{r} 108 \overline{) 8} \\ 28 \overline{) 13,5} \\ 40 \\ 0 \end{array}$	p13,5	هذا العدد هو:
$\begin{array}{r} \times 13,5 \\ 5 \\ \hline 67,5 \end{array}$	p67,5	= 8 ÷ 108
		عرض هو:
		5 × p13,5
		معيده هو:



$$\begin{array}{r}
 351,5 \\
 + 108 \\
 \hline
 459,5 \\
 \hline
 175,5 \\
 \hline
 729,00
 \end{array}$$

$$2 \times 67,5 + p108$$

مسألة نصي

$$67,5 \times p108$$

مسألة نصي
7
—

Expression écrite
Au marché
1^{er} jet

Mercredi 22 Avril 1970

Lamsili Mostafa

مسألة

$$\begin{array}{r}
 \text{العمليات} \\
 32,75 \quad | \quad 6 \\
 27 \\
 35 \quad | \quad 545,83 \\
 50 \\
 20 \\
 8 \\
 \hline
 2
 \end{array}$$

$$\begin{array}{r}
 \text{النتائج} \\
 \hline
 545,83
 \end{array}$$

الجدول

اجرة لادب اليومية نصي

$$= 6 \div 32,75$$

حسب
8
—



$$\begin{array}{r} 545,83 \\ - 200 \\ \hline 345,83 \end{array}$$

$$\begin{array}{|c|} \hline 345,83 \\ \hline \end{array}$$

اجرة ولد هادي

$$= 200 - 3275$$

Dictée

Le vend mieux

Monsieur

A. Bien

6

assis

Le vend a poussé le bateau au milieu

du bassin. ta travailles mieux que

moi. Mesieur Dubois a été malade,

Il va mieux maintenant.

un vieux Monsieur et une vieille Lane

sont assient au soleil.

EL. Gattabi

jeudi 23

avril

1970

Exercice

Je complète les phrases suivantes :

Le fermier distribue des sacs de blé à ses ouvriers. Les

ouvriers vont semer. Les grains de blé dans le champ la

soient



Bien

7

Il marche dans le champ et jette des poignées de blé. Puis le fermier une deuxième fois pour enterrer les grains de blé

Samedi 25 Avril 1970

Aziz Hamadi

مسألة

العمليات

$$\begin{array}{r|l} 86 & 2 \\ \hline 06 & 43 \times 21,5 \\ 00 & \end{array}$$

$$\begin{array}{r|l} 86 & 4 \\ \hline 06 & 21,5 \\ 80 & \end{array}$$

$$\begin{array}{r} 29 \\ \times 11 \\ \hline 29 \\ 290 \end{array}$$

التساؤلات

3 اسم

4 اسم

6 اسم

الرد

نصف حيلة صوت

$$= 2 \div 86$$

عروض صوت

$$= 4 \div 86$$

مسألة صوتية:

$$= 29 \times 21,5$$

مسألة صوتية

9

l'expression écrite



le devouement d'un père

Lundi 27 Avril 1970

écriture

v v v v v v v v v

v

v v v v v v v v v

Ab. Bien

6

Victor va à la ville Victor va à la ville

Mardi 28 Avril 1970

مقاييس

40300 = 13 + 4

555 = 12, 15 + 340

1,20 = 45 + 75

1100 = 1500 - 126

Mercredi 29 Avril 1970

ofaute

Dictée



E. Brien
10

- Que fais-tu petit menuisier ?
- je fais des réparations je répare mon camion et mon avion, je sais travailler et je fais attention.
René sait travailler et il fait attention.

Khabija

jeudi 30 Avril 1970

الصلبة
18,0 / 3
0 / 6
حصص
8

$$\begin{array}{r} 18,0 \\ 3 \overline{) 18,0} \\ \underline{0} \\ 0 \\ \underline{0} \\ 0 \end{array} \quad \begin{array}{r} 92,5 \\ - 6,5 \\ \hline 18,0 \end{array}$$

مسألة	النتائج	الجدول
		ثلاثة دجاجة من
		ثمن الدجاجة الواحدة هي:
	18,0	$= 6,5 - 92,5$
		ثمن الدجاجة الواحدة هي
	30	$= 3 \div 18,0$

Exercice

dans son jardin

1 Le fermier cultive toutes sortes de légumes: des haricots, des pommes de terre, etc....



des choses

2- Le fermier les cueillera quand ils seront grossis.

Ab. Bien

6

3- Le fermier n'a pas besoin d'acheter des légumes au marché. Elle les a sur place.

Braouf

Lundi 4 Mai

1970

مساج

انجزوا العمليات الآتية

$$\begin{array}{r}
 \times 75,05 \\
 49 \\
 \hline
 607545 \\
 270020 \\
 \hline
 33077,45
 \end{array}$$

أحمد

7

$$\begin{array}{r}
 \times 189 \\
 68 \\
 \hline
 1520 \\
 1134 \\
 \hline
 1285,2
 \end{array}$$

$$\begin{array}{r}
 30,75 \\
 75 \\
 \hline
 16375 \\
 20925 \\
 \hline
 245605
 \end{array}$$

Grammaire

L'analyse des mots

René mange des pommes



René: nom propre de ^{personne} personne masculin sujet du verbe mange

Ab. Bien
6

mange: verbe manger ^{personne} 3^e personne du singulier

des: article féminin pluriel
de chose

pommes: non commun féminin pluriel, complément d'objet

Messaoudi

Mercredi 6 Mai 1970

مسألة

العطليات	التناجج	العدد
حسني 60		العدد بين المدينتين هو:
8 x 4		
<u>240</u>	240	= 4 x 60

3 fautes

Dictée

Grand père est assis dans un vieux fauteuil. Il fume la



écureuil
d'écureuil

pipe - Alors, vous ^{ou} déjà un écureuil
? je n'ai jamais vu des écureuils.

Fin

jeudi 7 Mai 1970

Exercice

Je complète les phrases suivantes :

Bien
8

Au printemps la température est plus douce
qu'en hiver. Au printemps on porte des vêtements
légers On s'habille légerement On remplace les gros
vêtement d'hiver par des vêtements plus légers.

Jeudi 9 Mai 1970

Expression écrite

Le mendiant

1^{er} jet

Lundi 11 Mai 1970

Laoutaya

الأعداد المركبة

$$51435 = 510 \times 8 + 545 \times 15$$

Bien

8

$$1141140 = 15 \times 10 \times 8 + 135 \times 15 \times 8$$

Mercredi 13 Mai 1970

2 fautes

Dictée

8

allé
langue

Qui est là? que voulez-vous?
qui est ce qui chante ici?
Une guêpe a piqué René.
Abiro est aller à la chasse
Il est fatigué. Il tire la longue

Aziz Majid

jeudi 14 Mai 1970

chus



120 000

$$\begin{array}{r}
 30,19 \\
 \times 7,08 \\
 \hline
 21133 \\
 2137452
 \end{array}$$

$$\begin{array}{r}
 17,5 \\
 \times 9,6 \\
 \hline
 1675 \\
 168,00
 \end{array}$$

$$\begin{array}{r}
 6,37 \\
 \times 0,18 \\
 \hline
 5576 \\
 637 \\
 \hline
 12516
 \end{array}$$

Exercice

Je complète les phrases suivantes

Bien

Voici une grande forêt. Dans une forêt on peut marcher longtemps sans sortir de la forêt. Au Maroc il y a des forêts de cidre de chêne et de sapin. Les bûcherons coupent les arbres avec des hâches et des scies.

Kannab

Mardi 19 Mai 1970

كنايب

$$\frac{2}{p} 40025 = T_{111} 25 T_{12} 4$$

$$T_{12} 07 = \frac{8}{p} 7 \frac{2}{p} 12$$

$$\frac{2}{p} 13200 = T_{112} = T_{12} 1,32$$



Bien
7
✓

comment
recherche
rendre
envoyez

le téléphone sonne: - allo!
ici Me^{me}, Monsieur Thomas.
comment allez-vous?
- je vais bien merci.
- pouvez-vous me rendre mes
photographies?
- je peux vous les rendre. je vais
vous les envoyer ce soir

Fellows

jeudi 21 Mai 1970

کتاب بارگاہ، کتب خانہ

$\text{₹ } 0,500 = \text{₹ } \frac{1}{2}$		$\text{₹ } 0,25 = \text{₹ } \frac{1}{4}$
$\text{₹ } 0,75 = \text{₹ } \frac{3}{4}$		$\text{₹ } 0,60 = \text{₹ } \frac{3}{5}$
$\text{₹ } 0,80 = \text{₹ } \frac{4}{5}$		$\text{₹ } 0,10 = \text{₹ } \frac{1}{10}$

۱۳۹
9
—



Aziz Abdallah

Lundi 25

Mai 1970

الأعداد المركبة

$\rightarrow 15 = 1 \Rightarrow 75$	$\rightarrow 135 = 15 \Rightarrow 75$
$\rightarrow 0 = 2 \Rightarrow 720$	$\rightarrow 13670 = 10 \Rightarrow 720$
$\rightarrow 70 = 3 \Rightarrow 190$	$\rightarrow 765 = 12 \Rightarrow 45$

Écriture

t t t t t t
 ٢ ٢ ٢ ٢ ٢ ٢

Thomas Thomas Thomas

M. Thomas habite à Tanger M. Thomas habite

Kandoussi

Mardi

26

Mai

1970

— محمد بيبي —



$$354675 = 90,75 + 301,6 + 3,5$$

$$525 = 89 + 3,65 + 0,07$$

$$54775 = 10,75 + 301,70 + 105$$

Ben Abbès

Mercredi

27

Mai 1970

3 faut

Dictée

deux

achète

Papa a chète chaque jour deux jours.
un cheval dans l'écurie et trois chevaux dans les champs

donnerai

1 je der a boire aux amis.

chevaux

animaux de la ferme: aux ach,
vaches ^{et} chevaux, dans la ferme
Il y a beaux, beaucoup d'animaux.

jeudi

28

Mai 1970

Exercice

je complète les phrases suivantes



M. Dubois est dans le cabinet de dentiste
soigne les malades.

M. Dubois est assis dans un fauteuil Il garde la
bouche ouverte. Il souffre pendant que l dentiste
le soigne.

de temps en temps. Il souffre des petits cis de douleur

Lundi 1^{er} juin 1970

مسألة

العمليات	النتائج	الحل
$\begin{array}{r} 168 \overline{) 3} \\ 18 \overline{) 56} \\ 0 \end{array}$		الاجابة صيط القطعة هو:
	56	$= 3 \div 168$
$\begin{array}{r} 28 \\ - 8 \\ \hline 20 \end{array}$	28	نصف الاجيبه هو $= 8 - 56 = 8 \div 56$
	10	مرفه هو: $= 8 \div 8 - 28$



$$\begin{array}{r} 10 \\ + 8 \\ \hline 18 \\ 18 \\ \times 10 \\ \hline 180 \end{array}$$

$$1,80$$

$$180$$

طولها

$$= 8 + 10$$

تحتها

$$= 18 \times 10$$





TABLE D'ADDITION

Le signe de l'Addition est : +

1 et 1 font	2 4 et 1 font	3 7 et 1 font	4 8
1 - 2 - 3 4 - 2 - 6 7 - 2 - 9	1 - 3 - 4 4 - 3 - 7 7 - 3 - 10	1 - 4 - 5 4 - 4 - 8 7 - 4 - 11	1 - 5 - 6 4 - 5 - 9 7 - 5 - 12
1 - 6 - 7 4 - 6 - 10 7 - 6 - 13	1 - 7 - 8 4 - 7 - 11 7 - 7 - 14	1 - 8 - 9 4 - 8 - 12 7 - 8 - 15	1 - 9 - 10 4 - 9 - 13 7 - 9 - 16
1 - 10 - 11 4 - 10 - 14 7 - 10 - 17			

TABLE DE MULTIPLICATION

Le signe de la Multiplication est : X

1 fois 1 font	1 4 fois 1 font	1 7 fois 1 font	1 8
1 - 2 - 2 4 - 2 - 8 7 - 2 - 14	1 - 3 - 3 4 - 3 - 12 7 - 3 - 21	1 - 4 - 4 4 - 4 - 16 7 - 4 - 28	1 - 5 - 5 4 - 5 - 20 7 - 5 - 35
1 - 6 - 6 4 - 6 - 24 7 - 6 - 42	1 - 7 - 7 4 - 7 - 28 7 - 7 - 49	1 - 8 - 8 4 - 8 - 32 7 - 8 - 56	1 - 9 - 9 4 - 9 - 36 7 - 9 - 63
1 - 10 - 10 4 - 10 - 40 7 - 10 - 70			

2 et 1 font	3 5 et 1 font	6 8 et 1 font	9
2 - 2 - 4 5 - 2 - 7 8 - 2 - 10	2 - 3 - 5 5 - 3 - 8 8 - 3 - 11	2 - 4 - 6 5 - 4 - 9 8 - 4 - 12	2 - 5 - 7 5 - 5 - 10 8 - 5 - 13
2 - 6 - 8 5 - 6 - 11 8 - 6 - 14	2 - 7 - 9 5 - 7 - 12 8 - 7 - 15	2 - 8 - 10 5 - 8 - 13 8 - 8 - 16	2 - 9 - 11 5 - 9 - 14 8 - 9 - 17
2 - 10 - 12 5 - 10 - 15 8 - 10 - 18			

2 fois 1 font	2 5 fois 1 font	5 8 fois 1 font	8
2 - 2 - 4 5 - 2 - 7 8 - 2 - 10	2 - 3 - 6 5 - 3 - 9 8 - 3 - 12	2 - 4 - 8 5 - 4 - 12 8 - 4 - 16	2 - 5 - 10 5 - 5 - 15 8 - 5 - 20
2 - 6 - 12 5 - 6 - 18 8 - 6 - 24	2 - 7 - 14 5 - 7 - 21 8 - 7 - 28	2 - 8 - 16 5 - 8 - 24 8 - 8 - 32	2 - 9 - 18 5 - 9 - 27 8 - 9 - 36
2 - 10 - 20 5 - 10 - 30 8 - 10 - 40			

3 et 1 font	4 6 et 1 font	7 9 et 1 font	10
3 - 2 - 5 6 - 2 - 8 9 - 2 - 11	3 - 3 - 6 6 - 3 - 9 9 - 3 - 12	3 - 4 - 7 6 - 4 - 10 9 - 4 - 13	3 - 5 - 8 6 - 5 - 11 9 - 5 - 14
3 - 6 - 9 6 - 6 - 12 9 - 6 - 15	3 - 7 - 10 6 - 7 - 13 9 - 7 - 16	3 - 8 - 11 6 - 8 - 14 9 - 8 - 17	3 - 9 - 12 6 - 9 - 15 9 - 9 - 18
3 - 10 - 13 6 - 10 - 16 9 - 10 - 19			

3 fois 1 font	3 6 fois 1 font	6 9 fois 1 font	9
3 - 2 - 6 6 - 2 - 12 9 - 2 - 18	3 - 3 - 9 6 - 3 - 18 9 - 3 - 27	3 - 4 - 12 6 - 4 - 24 9 - 4 - 36	3 - 5 - 15 6 - 5 - 30 9 - 5 - 45
3 - 6 - 18 6 - 6 - 36 9 - 6 - 54	3 - 7 - 21 6 - 7 - 42 9 - 7 - 63	3 - 8 - 24 6 - 8 - 48 9 - 8 - 72	3 - 9 - 27 6 - 9 - 54 9 - 9 - 81
3 - 10 - 30 6 - 10 - 60 9 - 10 - 90			

TABLE DE SOUSTRACTION

Le signe de la Soustraction est : -

1 de 2 reste	1 4 de 5 reste	1 7 de 8 reste	1
1 - 3 - 2 4 - 6 - 2 7 - 9 - 2	1 - 4 - 3 4 - 7 - 3 7 - 10 - 3	1 - 5 - 4 4 - 8 - 4 7 - 11 - 4	1 - 6 - 5 4 - 9 - 5 7 - 12 - 5
1 - 7 - 6 4 - 10 - 6 7 - 13 - 6	1 - 8 - 7 4 - 11 - 7 7 - 14 - 7	1 - 9 - 8 4 - 12 - 8 7 - 15 - 8	1 - 10 - 9 4 - 13 - 9 7 - 16 - 9
1 - 11 - 10 4 - 14 - 10 7 - 17 - 10			

TABLE DE DIVISION

Le signe de la Division est : /

1 en 1 est	1 fois	4 en 4 est	1 fois	7 en 7 est	1 fois
1 - 2 - 2 - 4 - 8 - 2 - 7 - 14 - 2 - 3 - 6 - 3 - 4 - 12 - 3 - 7 - 21 - 4 - 5 - 20 - 4 - 6 - 24 - 5 - 7 - 35 - 6 - 8 - 48 - 7 - 9 - 63 - 8 - 10 - 80 - 10 - 10 - 100					

2 de 3 reste	1 5 de 6 reste	1 8 de 9 reste	1
2 - 4 - 2 5 - 7 - 2 8 - 10 - 2 3 - 11 - 3 4 - 12 - 4 5 - 13 - 5 6 - 14 - 6 7 - 15 - 7 8 - 16 - 8 9 - 17 - 9 10 - 18 - 10 11 - 19 - 11 12 - 10 13 - 15 - 10 8 - 18 - 10 9 - 19 - 10			

2 en 2 est	1 fois	5 en 5 est	1 fois	8 en 8 est	1 fois
2 - 4 - 2 - 5 - 10 - 2 - 6 - 12 - 3 - 7 - 14 - 3 - 8 - 16 - 4 - 9 - 18 - 4 - 10 - 20 - 5 - 11 - 22 - 5 - 12 - 24 - 6 - 13 - 26 - 6 - 14 - 28 - 7 - 15 - 30 - 7 - 16 - 32 - 8 - 17 - 34 - 8 - 18 - 36 - 9 - 19 - 45 - 9 - 20 - 90					

3 de 4 reste	1 6 de 7 reste	1 9 de 10 reste	1
3 - 5 - 2 6 - 8 - 2 3 - 11 - 3 4 - 12 - 4 5 - 13 - 5 6 - 14 - 6 7 - 15 - 7 8 - 16 - 8 9 - 17 - 9 10 - 18 - 10 11 - 19 - 10 12 - 10 13 - 15 - 10 8 - 18 - 10 9 - 19 - 10			

3 en 3 est	1 fois	6 en 6 est	1 fois	9 en 9 est	1 fois
3 - 9 - 3 - 6 - 18 - 3 - 7 - 21 - 4 - 8 - 24 - 4 - 12 - 36 - 5 - 15 - 45 - 5 - 18 - 54 - 6 - 20 - 60 - 6 - 21 - 63 - 7 - 22 - 66 - 7 - 24 - 72 - 8 - 24 - 72 - 8 - 27 - 72 - 9 - 27 - 81 - 9 - 30 - 90					